

2025年度 東洋英和女学院中学部 入学審査問題 B

受験番号


氏名

1 次の日本の建築に関する【A】～【M】をよく見て、あとの問に答えなさい。

【A】

【B】

【C】



山川&二宮 ICTライブラリ より 国立歴史民俗博物館蔵 山川&二宮 ICTライブラリ より 『ビジュアル図鑑日本の歴史』(学研) より

問1 【A】について。この建物は、柱で^{わく}枠をつくり屋根をかけた半地下式の住まいで、縄文時代から奈良時代まで長く民衆の住居として用いられました。

- (1) この建物を何といいますか。
- (2) 【A】で生活していた奈良時代の農民についての説明文X・Yの正誤の組み合わせとして、正しいものをア～エから選び、記号で答えなさい。

X-班田収授法によって口分田を貸し与えられ、稲を納める租、地方の特産物を納める調などの税や兵役を負担した。

Y-寄合を開いて村を運営するようになり、領主に抵抗するために集団でうったえたり、村からいっせいに逃げたり、一揆を起すこともあった。


- ア. X:正 Y:正 イ. X:正 Y:誤
- ウ. X:誤 Y:正 エ. X:誤 Y:誤

問2 【B】について。この建物は、平安時代の貴族の住宅です。【B】で暮らしていた平安時代の貴族の生活・文化に関する説明として、誤っているものを次から選び、記号で答えなさい。

- ア. 屋敷の内部は壁がなく、ふすまやびょうぶなどで部屋を仕切る構造であった。ふすまやびょうぶには、日本の風景や貴族の生活を題材にした大和絵が描かれた。
- イ. 能や狂言が発展し、祭りや盆おどりがさかんに行われるようになった。すみ絵や生け花など、現在につながるものも多く生まれた。
- ウ. 貴族の暮らしは年中行事が中心で、いろいろな行事が決まった日に行われた。お正月の行事や端午の節句、七夕など現在まで続いているものも多くある。
- エ. かな文字の発達によって、感情を細かく表現できるようになった。朝廷に仕える女性たちを中心に、『源氏物語』や『枕草子』などのかな文字を使った文学作品が書かれた。

問3 【C】について。この建物は、江戸時代の「裏長屋」とよばれる町人たちの住居です。裏長屋には、近所の町人同士が助け合えるといった良い点もありましたが、問題点もありました。その問題点は何か、考えて一つあげなさい。

【D】



写真提供：共同通信社
毎日新聞社 2024/5/25 より

【E】



ながさき旅ネット HP より


問4 【D】について。この建物は、飛鳥時代に聖徳太子によって建てられた寺院です。仏教の伝来とともに、寺院の建築技術も伝わりました。現存するもっとも古い木造建築である【D】の寺院名を答えなさい。

問5 【E】について。この建物は、江戸時代の終わりに、開国後の開港地である長崎に建設された教会堂です。日本各地に西洋人の指導で教会堂が建設されましたが、長崎などの九州地方には特に多く建設されました。それはなぜですか。

【F】

【G】

【H】



KAGAWA GALLERY-歴史館 HP より



浜島書店資料集 より
提供 慈照寺



二条城 HP より

問6 【F】について。この建物は鎌倉時代の武士の館です。【F】には、武士の館に特有の設備がみられます。その設備の例を一つあげなさい。

問7 【G】について。この建物は、室町時代に京都の東山に將軍の別荘として建てられたものです。【G】は後に寺院として整備され、隣の東求堂や庭園とともに、室町文化を代表するものの一つになりました。右の写真は東求堂の中のようなすを示したものです。現在の和室のもととなったこのような建築様式を何といいますか。




『ビジュアル図鑑日本の歴史』(学研) より
提供 慈照寺

問8 【H】について。この建物は、江戸時代の初めに徳川家康が京都の二条堀川に築いた城で、將軍が京都にのぼったときの宿所として建てられました。右の絵は、1867年10月、の人物がこの城に重臣たちを集め、大政奉還の意思を伝えて意見を聞いているようすを描いたものです。の人物名を答えなさい。




浜島書店資料集 より
朝田丹陵筆「大政奉還」 聖徳記念絵画館 蔵

【I】



タ刊フジHP より

【J】



西日本新聞 2021/1/13 より
西日本新聞社提供・許諾済

【K】



浜島書店資料集 より

問9 次は【I】～【K】の説明文です。これらを参考に、【I】～【K】の建てられた順番として正しいものをア～カから選び、記号で答えなさい。


【I】 韓国を併合した日本が現在のソウルに建設したもので、日本の植民地支配の中心機関として使用されました。太平洋戦争後は、韓国政府の庁舎や博物館としても使用されていましたが、日本の植民地支配を象徴するものとして、1995年に解体されました。

【J】 日本によって建国された満州国の首都であった新京（現在の長春）の中心部に建てられた関東軍司令部跡です。満州国は事実上日本が支配した国で、関東軍は大きな力を持っていました。太平洋戦争後は、中国共産党の建物として使用されています。

【K】 日本の植民地となった台湾を統治するために設置された台湾総督府の建物です。太平洋戦争で日本が敗れるまでの約50年間、植民地支配の中心機関として使用されました。太平洋戦争後は、台湾の総統府の建物として使用されています。

- ア. 【I】⇒【J】⇒【K】 イ. 【I】⇒【K】⇒【J】 ウ. 【J】⇒【I】⇒【K】
- エ. 【J】⇒【K】⇒【I】 オ. 【K】⇒【I】⇒【J】 カ. 【K】⇒【J】⇒【I】

【L】



浜島書店 新詳日本史 より

【M】



毎日新聞社 提供
2008/12/23 より

問10 【L】について。この建物は、明治時代の半ば、東京の日比谷にイギリス人の設計で建てられた洋風建築です。外国の客や外交官を接待するなど、欧米諸国との社交場として使用されました。この時期、日本は欧米諸国に対して、日本の近代化をアピールしました。その目的を当時の外交問題から考えて答えなさい。

問11 【M】について。この建物は、1958年に東京都港区に建設されました。【M】の完成にともなって、家庭への普及率が急激に高まった家電製品があります。この家電製品は何ですか。

2 次の文章をよく読んで、あとの問に答えなさい。

昨年（2024年）は、「史上最大の選挙イヤー」と呼ばれた年で、70以上の国や地域で選挙が行われ、世界人口の約半数にあたる人が投票したといわれています。

世界の多くの国では、国や地方自治体などの代表者は選挙で選ばれます。日本では、日本国憲法に①民主的な選挙の原則を明記するとともに、②国民の権利として参政権を保障しています。そして定数や投票方法、選挙違反のきまりなどを（ 1 ）で細かく規定しています。③選挙では特に投票が公正に行われることが重要であるため、それぞれの国の事情に合わせた工夫がみられます。

選挙の制度には、一つの選挙区から一人だけ当選する小選挙区制、二人以上が当選する大選挙区制、政党の得票数に応じて各政党の当選者が決まる（ 2 ）の三つが基本にあります。各制度にはそれぞれ長所と短所があるため、世界各国では三つの制度のいずれか、または二つを組み合わせた制度が採用されています。

選挙で選ばれた議員は、国や地方自治体の議会で政治を行います。世界には一院制と二院制の国があります。二院制を採用している国では、④両方の議院で選挙が行われる国と、片方の議院だけで選挙が行われる国があります。

選挙結果は、それまでの政治に対する評価でもあります。昨年、各国で行われた選挙では、⑤物価の高騰などの経済問題や国際情勢に対する社会不安が選挙結果に大きく影響しました。日本では10月に⑥衆議院の解散にともなう選挙が行われ、与野党の勢力が大きく塗りかえられました。民主政治では、有権者の投じる一票が政治を大きく左右します。有権者は政党や候補者の公約をしっかりと見極め、主権者の自覚と責任をもって一票を投じることが求められているのです。

問1 下線部①について。このうち、「一定の年齢以上のすべての国民が選挙権をもつ」という原則を何といいますか。

問2 下線部②について。参政権には、選挙権と被選挙権がふくまれます。日本では、被選挙権は選挙権よりも高い年齢に定められています。なぜ、被選挙権の方が高い年齢に設定されているのですか。

問3 文章中の（ 1 ）にあてはまる法律名を答えなさい。

問4 下線部③について。インドネシアでは、右の写真のように、投票を済ませた有権者の指先に、数日間消せない特殊なインクが付けられます。これはどのような選挙違反を防ぐために行われているのですか。



社会-3 B

問5 文章中の(2)にあてはまる選挙制度を答えなさい。

問6 下線部④について。日本では衆議院と参議院それぞれで選挙が行われます。衆議院議員選挙は「総選挙」と呼ばれますが、参議院議員選挙はそのようには呼ばれません。それはなぜですか。

問7 下線部⑤について。ある一定期間、持続的に物価が上昇し、貨幣価値が下落していく経済現象を何といいますか。カタカナで答えなさい。

問8 下線部⑥について。その投票日から30日以内に召集される国会の名称を答えなさい。

3 次の文章をよく読んで、あとの問に答えなさい。

都市とは、政治・経済・文化などの中心地で、人口が集中している大きなまちのことです。日本ではその代表として、政令指定都市(以下、政令市)があげられます。政令市は地方自治法で「政令で指定される人口50万人以上の市」と定められ、現在全国に20市あります。政令市は、都市としての特徴に加えて、独自の特色をもっています。

都市の特徴の一つ目は、多くの人々が集中して住むことができる自然条件に恵まれていることです。その条件には、①水を得やすい河川、広い平野、交通が集中する地形、温暖な気候、産業発展のための資源、などがあります。②都市の成り立ちはさまざまですが、政令市をふくめて、人口が多い都市はこれらの条件に恵まれた太平洋ベルトに集中しています。

特徴の二つ目は、地域の産業や文化において中心的な役割を果たしていることです。③農水産物の大消費地である都市は、周辺地域の農業や漁業に大きな影響を与えています。なかには、都市の名前で特産品を全国にアピールしている地域もあります。④工業地帯・地域の中心となる都市には、大小さまざまな工場が立地しています。また多くの人々が集まる都市には、⑤企業のオフィスが集中し、大学をはじめとする教育機関も多く見られます。さらに、⑥ショッピングや観光などで、さまざまな地域から都市へ人が集まってきました。


これらに加えて、政令市は道府県が持つ多くの権限を引きつぎ、市内に区を設置して特色あるまちづくりが可能です。そのため、地方交付税交付金などが増額されたり、道府県から財源を譲り受けたりしています。こうした特徴から、政令市は日本の大都市の象徴といえます。ところが2000年頃から、そのイメージとは異なる政令市が誕生しました。これは⑦日本の社会の変化をうけて、政令市の役割も変化したことを表しています。市町村は地域の住民に一番近い公共団体であり、その中でもっとも大きな存在である政令市の果たす役割は、ますます多様で重要になっていくと期待されています。

問1 下線部①について。

(1) 都市とその市内を流れる河川の組み合わせとして、誤っているものを次から選び、記号で答えなさい。

- ア. 新潟市—信濃川 イ. 広島市—太田川
- ウ. 大阪市—淀川 エ. 静岡市—富士川

(2) 右は神戸市の中心部をふくむ地域の航空写真です。神戸市には広い平野はありませんが、人口約150万人の大都市です。どのようにして市街地を拡大してきたのですか。



Google map より

(3) 北九州市は、九州で唯一、関門海峡をはさんで本州と隣接する位置にあるため、交通が集中します。右は関門海峡のトンネルにある県境の写真です。

写真中の※にあてはまる県名を答えなさい。



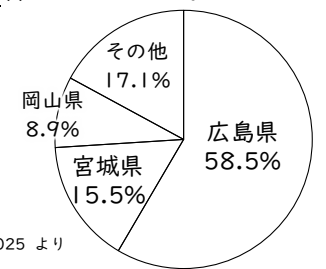
ぐるリッチ!北九州観光情報サイトHP「北九州ノコト」より

問2 下線部②について。北九州市は太平洋ベルトのなかでもっとも早くから発展した都市の一つです。ここではかつて、周辺地域で産出される豊富な資源を活用して、製鉄業が栄えました。その資源は何ですか。

問3 下線部③について。

(1) 淡路島は、本州と島を結ぶ橋が開通したことで、神戸市や大阪市、京都市などへの野菜の出荷量が増加しました。解答用紙の地図に、この橋を線ではっきりと書きこみなさい。

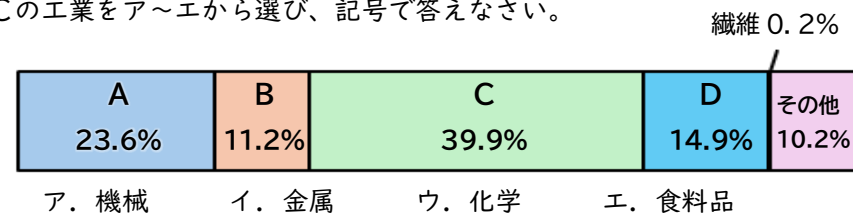
(2) 広島湾に面している広島市では、ある水産物の養殖がさかんです。右のグラフはその水産物の都道府県別の生産割合を示したものです。この水産物を答えなさい。



日本国勢協会 2024/2025 より

問4 下線部④について。

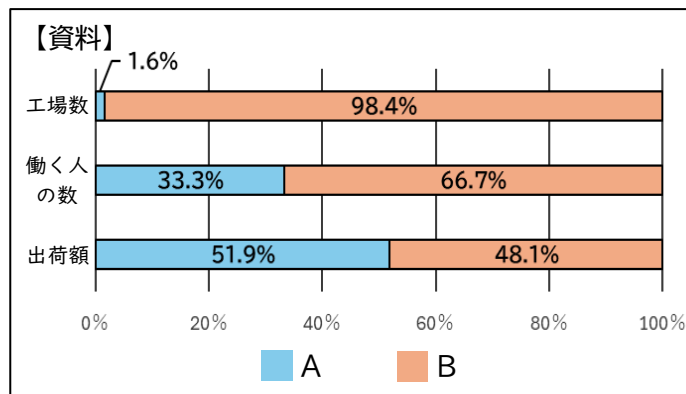
(1) 千葉市は京葉工業地域の中心的な都市の一つです。次は京葉工業地域の工業別生産額割合を示したグラフです。グラフ中のA~Dには、下のア~エの工業があてはまります。このうち、Cの工業をア~エから選び、記号で答えなさい。



日本国勢協会 2024/2025 より

社会-4 B

(2) 日本では、働く人が300人以上の工場を大工場、300人未満を中小工場と呼びます。【資料】は大工場と中小工場を比べたグラフ、【説明】は大工場と中小工場の特徴をそれぞれ述べたものです。AとB、CとDのうち、中小工場を示しているものの組み合わせとして正しいものをア～エから選び、記号で答えなさい。

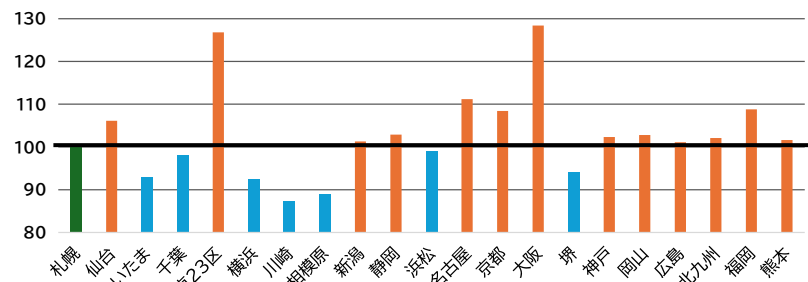


【説明】
 Cー軽工業に関連する工場が多い。
 Dー働く人1人あたりの生産額が高い。

日本国勢協会 2024/2025 より

- ア. A・C イ. A・D ウ. B・C エ. B・D

問5 下線部⑤について。そのため、都市では昼間の人口が夜間の人口より多くなる傾向があります。次のグラフは、各政令市と東京23区の、夜間人口を100としたときの昼間人口の割合を示したものです。グラフを見ると、上の説明とは逆に、昼間人口が夜間人口より少ない都市があります。それはなぜですか。都市名を一つあげて説明しなさい。



仙台市男女共同参画推進センター より

問6 下線部⑥について。

(1) 仙台市は「杜の都」と呼ばれ、多くの観光客でにぎわいます。次の地形図中の→は仙台駅を起点とする観光バスの運行ルート、●はバス停を示しています。東洋英子さんは仙台駅でバスに乗り、この地図を見ながら市内の観光に出かけました。その時の説明として誤っているものを次から二つ選び、記号で答えなさい。

- ア. 最初の橋を渡った先のバス停を降りて、南に向かって進み、伊達政宗のお墓に行った。
- イ. 国際センターの前をすぎて左折すると、仙台城跡まで急な坂道を登った。
- ウ. 仙台城跡から市内を一望できたので、地図を見ると標高が約250メートルと分かった。
- エ. 最後の橋である牛越橋を渡っているとき、左手に発電所が見えた。
- オ. 仙台駅を出発して戻ってくるまでに、バスは川にかかる橋を全部で6回渡った。



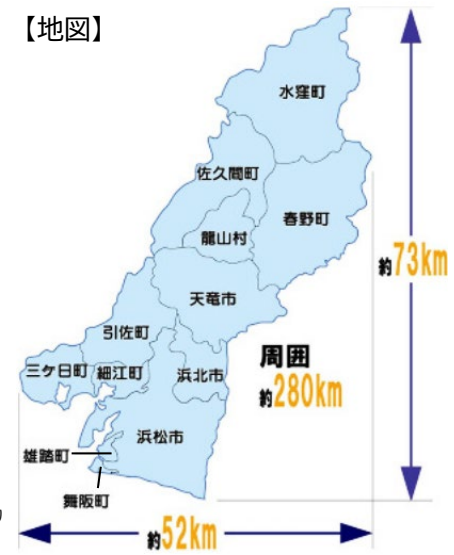
国土地理院 地理院地図 / GSI Maps (1/25000) より
 2022年3月以前のルートです。

(2) 近年、仙台市や京都市などの観光業がさかんな都市では、外国人をはじめとした観光客が急増し、住民の生活に支障をきたす状況も生じています。この状況を何といいますか。

問7 下線部⑦について。その例として浜松市があげられます。浜松市は、浜名湖周辺の市町村合併でも政令市移行の条件を満たしていました。しかし、あえて北部をふくめた12市町村の大合併によって政令市に移行し、全国2位の面積を持つことになりました。次の【表】は合併が行われた2005年の12市町村の人口と面積、【地図】はその位置を示したものです。この合併による政令市への移行は、北部の町村の住民にとって、どのようなメリットがあると期待されましたか。

【表】

	人口(人)	面積(km ²)
水窪町	3,386	271.28
佐久間町	5,587	168.53
春野町	6,248	252.17
龍山村	1,182	70.23
天竜市	22,601	181.65
引佐町	14,810	121.18
浜北市	87,919	66.64
三ヶ日町	16,147	75.65
細江町	22,296	34.18
雄踏町	14,221	8.15
舞阪町	12,077	4.63
浜松市	608,341	256.88



浜松市 HP / 浜松情報 Book HP より