

# 2025年度 東洋英和女学院中学部 入学審査問題 A

受験 番号	<input type="text"/>	<input type="text"/>	<input type="text"/>
----------	----------------------	----------------------	----------------------

氏名	<input type="text"/>
----	----------------------

1 次の文章は、中学1年生の地理の授業での会話です。よく読んで、あとの問に答えなさい。

東 先生：今日は地図について勉強しましょう。①地図とは、ひと目で見渡せないような大きな空間を縮小して、記号や文字などを用いて表現したものです。私たちは毎日の生活のさまざまな場面で地図を利用しています。みなさんはどんな時に地図を使っていますか。

和子さん：私は授業で出てきた場所を調べるために地図帳を使っています。

東 先生：なるほど。では調べたい場所がどこにのっているのか分からない場合はどうしますか。

和子さん：地図帳の後ろの索引をみて、②ページと範囲を手がかりに探します。

東 先生：その通りですね。では、みなさんは地図帳以外にどんな地図を使っていますか。

洋子さん：私は登山の前に地形図を使います。両親は登山が大好きで、私も小さい時から家族と一緒に山に登っています。登る山を決めたら、地形図に登山ルートを線で引いてみたり、まわりに何があるのかを確認したりしています。

東 先生：それは本格的ですね。地形図にはさまざまな情報がのっているの、読み取るのは大変ではないですか。

洋子さん：最初は難しかったです。でも慣れてくると、③等高線を読み取って、山の形をイメージすることができます。実際に登山をしながら答え合わせをするのは楽しいです。それに④地図記号を見ておけば、その場所に何があるのかも分かります。

東 先生：地形図を使いこなしていますね。地図記号は、地形や施設、土地のようすを表す記号です。とはいえ地図記号だけでは、実際にその土地がどのように利用されているのかまでは分からないこともあります。たとえば、畑や果樹園の地図記号を思い浮かべてみましょう。

英子さん：そうか、⑤地図記号だけだと、そこで何を栽培しているのかまでは分からないですね。

東 先生：その通りです。ほかにも、新旧の地図を比べることで、以前は畑だったところが市街地に変わっているなど、⑥土地利用の変化を知ることもできます。

和子さん：地図にはいろいろな使い方があるのですね。ほかには、どんな地図がありますか。

東 先生：それでは地図の種類について、少し見方を変えて考えてみましょう。これまで話してきた地図は「一般図」と呼ばれています。これとは別に、⑦特定の内容に関する情報だけを表した「主題図」と呼ばれる地図もあります。みなさんが思いつく「主題図」をあげてみてください。

洋子さん：先生、⑧ハザードマップも主題図ですか。

東 先生：その通りです。防災訓練の時にもハザードマップについて説明がありましたね。近年、自然災害が多いことから、ハザードマップの重要性が高まっています。

英子さん：自然災害といえば、被災地に物資を運ぶ手段として、今後ドローンが活躍するようになる、というニュースを見ました。どうやってドローンを正確に目的地へ飛ばすのですか。

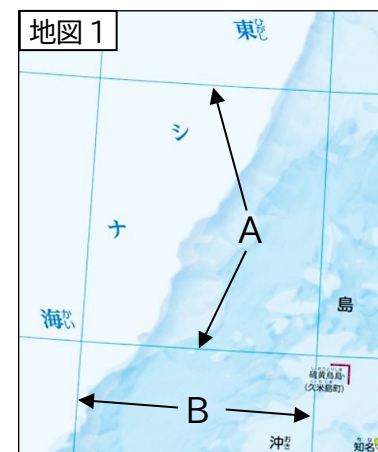
東 先生：被災地に素早く救援物資を送ることは、災害が多い日本ではとても重要なことですね。ドローンは正確な位置情報を受信して、地図上でドローンの現在地点と目的地の位置を確認しながら飛行しています。しかし⑨どんなに正確に位置座標を設定したとしても、数年たつと実際の位置と地図上の位置がずれていきます。そのため地図を作成している国土地理院では、定期的に位置座標の補正を行っているのですよ。

和子さん：地図って奥が深いですね。地図について、もう少し勉強したくなりました。

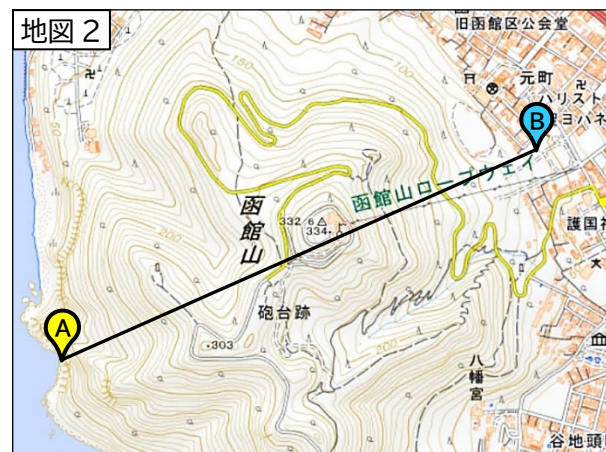
問1 下線部①について。地図はさまざまな縮尺で表現されています。25000分の1の地形図上で6cmは、実際には何kmですか。

問2 下線部②について。右の地図1中の線Aと線Bは、場所を特定する時に使います。それぞれ何という線ですか。

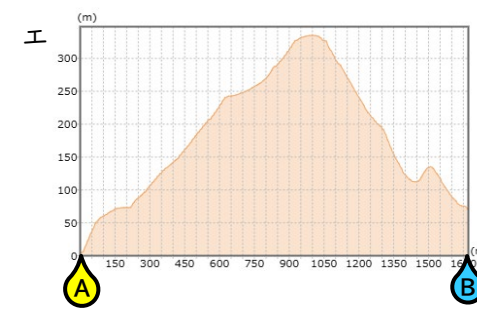
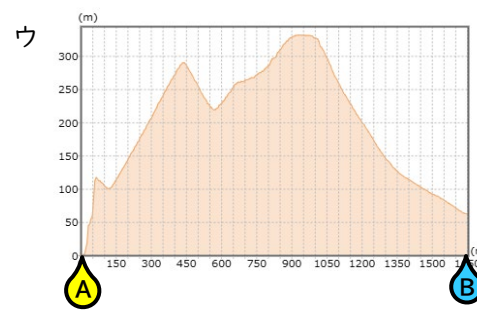
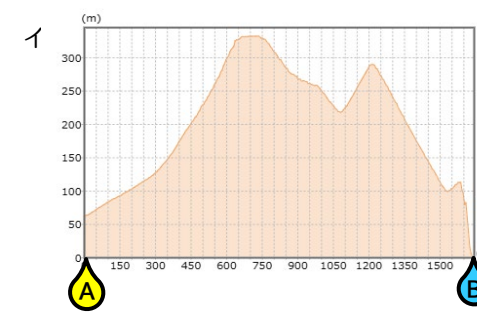
問3 下線部③について。次の地図2中A—B間の断面図として正しいものを下のア～エから選び、記号で答えなさい。



中学校社会科地図帳(帝国書院)より



国土地理院 地理院地図 / GSI Maps (1/25000) より



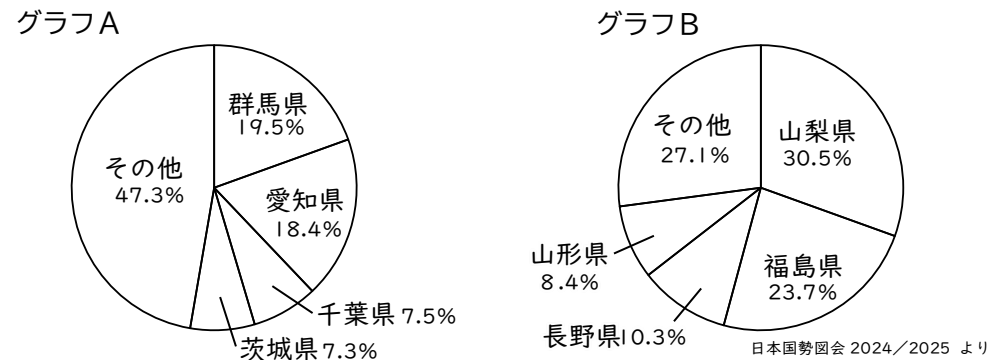
社会-2 A

問4 下線部④について。


- (1) 右の地形図中○は、発電所の地図記号です。この発電の種類を答えなさい。
- (2) 老人ホームの地図記号は、全国の小学生・中学生から募集したデザインをもとに、2006年につくられました。解答用紙にその地図記号を書きなさい。



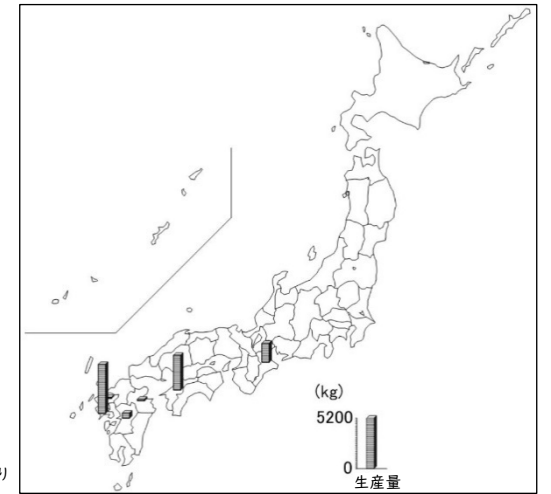
問5 下線部⑤について。グラフAは畑で栽培されている農作物の、グラフBは果樹園で栽培されている農作物の、都道府県別生産割合を示したものです。グラフが示す農作物名をそれぞれ答えなさい。



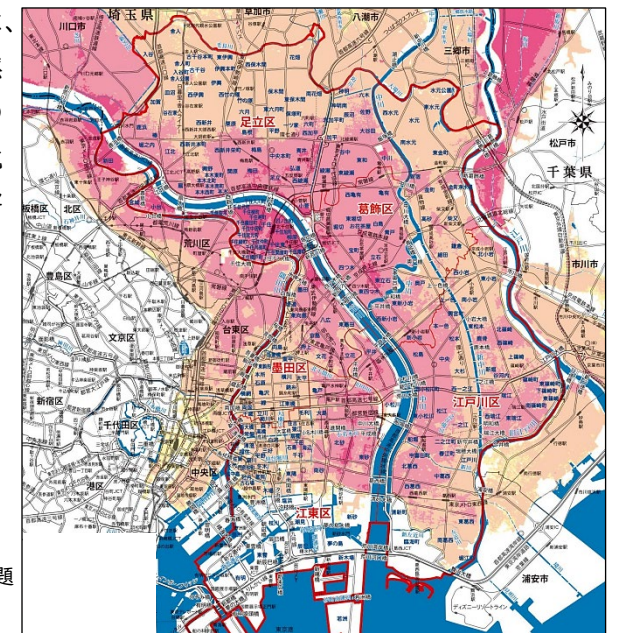
問6 下線部⑥について。次は、茨城県のある地域の新旧のデジタル地図です。二つの地図を比べると、土地利用が大きく変化したことが分かります。この地域につくられた工業地域を答えなさい。



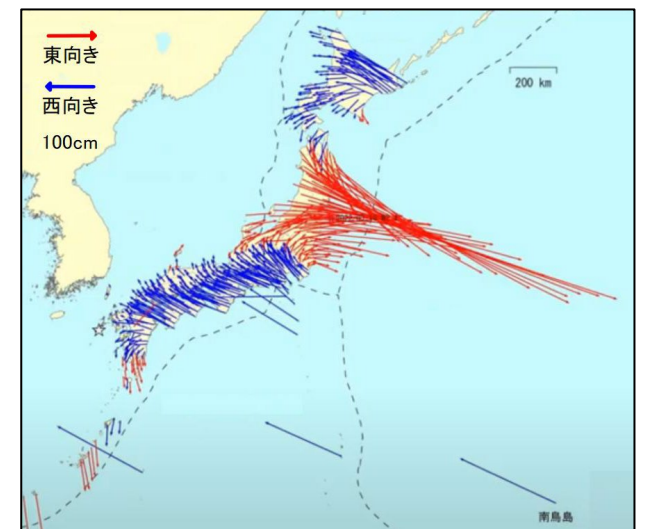
問7 下線部⑦について。右は、ある水産物の都道府県別生産量を示した主題図です。この水産物のほとんどは養殖で生産されています。この水産物を答えなさい。



問8 下線部⑧について。右のハザードマップは、東京都の東部を中心とする地域の、ある自然災害によって発生する被害を想定したものです。赤色が濃く塗られている地域ほど危険であることを示しています。何の自然災害による被害を示したのですか。



問9 下線部⑨について。右の地図は、1997年4月から2022年4月のGPSでとらえられる位置と、実際の位置がどれくらいずれたのかを表したものです。このようにずれるのはなぜですか。



2 次の文章をよく読んで、あとの問に答えなさい。

現在の日本の首都は東京ですが、分かっているなかで一番古い日本の都は、現在の奈良県に置かれた飛鳥時代のものです。この頃<sup>ころ</sup>の都は、天皇が代わるたびにうつり、政治も安定しませんでした。やがて、天皇に代わって政治を進めていこうとする蘇我氏が力をのばしていきました。その蘇我氏を中大兄皇子と中臣鎌足が滅ぼし、①改新の詔を出して国の方針を示しました。その後、天皇を中心とする国づくりが進められました。

しかし奈良時代に入っても政治は安定せず、奈良の僧<sup>そう</sup>たちが政治を動かそうとしたため、( 1 ) は平安京へ都をうつしました。平安京が政治の中心となった時代を、平安時代といいます。②貴族の藤原氏は天皇家に近づき、摂政・関白になることで大きな権力を持つようになり、藤原道長の時代に最盛期<sup>せいせい</sup>をおかえました。藤原氏による摂関政治の時期には、平安京内で貴族たちを中心とした、はなやかな文化が育まれました。その後の院政では、平安京の外にある上皇の屋敷<sup>しき</sup>で政治が行われました。平安時代の終わりには③力をつけた武士が政治に影響<sup>えいきょう</sup>を与えるようになり、平安京内で戦いがおきるようになりました。これらの戦いに勝利した平清盛率いる平氏が政権をにぎりました。清盛は平安京を離れて④福原に都をうつしましたが、多くの反対があつて、まもなく平安京へ戻<sup>もど</sup>ってきました。このような平氏の横暴さに不満があつたようになると、源氏が平氏打倒<sup>とう</sup>に立ち上がりました。

平氏との戦いに勝利した源頼朝は、武家の政治の中心を鎌倉に置きました。これにより、政治を行う場所が京都と鎌倉の二つに分かれていきました。⑤承久の乱で幕府が勝利すると、より鎌倉が政治の中心地としての役割を果たしていきます。しかし二度の元寇で幕府がおとろえると、後醍醐天皇が武士たちの力を借りて幕府を滅ぼし、再び政治の中心が京都に戻<sup>もど</sup>ってきました。足利尊氏が京都に幕府をひらくと、対立した後醍醐天皇が吉野に新たに朝廷を置きました。その後⑥足利義満によって、南北に分かれていた朝廷は統一されました。

室町幕府の政治は、守護大名が京都に集まり、それぞれ役職に就<sup>つ</sup>いて将軍の政治を補佐するというしくみがとられました。しかし守護大名同士の対立や将軍のあとつぎ問題などが重なり、約11年にもおよぶ応仁の乱がおこりました。この戦いは京都が戦場となったため、町は荒れ果ててしまい、京都の政治機能は失われ、戦国時代に入りました。

戦国時代は、室町幕府の力がおとろえ、それぞれの地域では戦国大名による政治が行われました。そのなかで頭角を現した織田信長は、( 2 ) を室町幕府の将軍にするために京都へのぼりました。信長のあとをついだ⑦豊臣秀吉は朝廷の権威<sup>けんい</sup>を利用して、大阪や京都で政治を行ったため、上方が栄えていきました。

しかし、秀吉の死後、関ヶ原の戦いに勝利した徳川家康は、京都ではなく江戸に政治の中心を置きました。京都は政治の力を失いましたが、文化都市として栄えました。一方の江戸は開発が進んでいき、江戸時代の半ばには⑧人口100万人をこえる世界有数の都市となりました。そして、江戸は大阪や京都と並んで「三都」と呼ばれるようになり、⑨江戸時代の後半には文化の中心も上方から江戸へとついでいきました。江戸時代末期に幕府がおとろえ始めると、再び朝廷が重視されるようになり、京都は動乱の舞台<sup>ぶたい</sup>となりました。

江戸幕府が滅亡<sup>めつ</sup>して明治時代になると、天皇は京都から東京へうつることになりました。これにより、( 1 ) が平安京に都を置いてから【 ※ 】にわたって、京都に天皇がいる時代が幕を閉じました。そして⑩東京は、欧米<sup>おうべい</sup>をモデルとした国家を目指す明治新政府の政策により近代化していき、「帝都」と呼ばれるようになりました。

1900年代に入ると、東京に人口がさらに集まるようになっていき、東京の町のようにと人々の生活が大きく変化しました。しかし、1923年に発生した関東大震災で東京は大きな被害を受け、江戸時代以来の町なみの多くは失われました。⑪1930年代には、「帝都」東京で、軍部による首相の暗殺や大規模なクーデターが発生しました。太平洋戦争が始まり、しだいに戦局が悪化すると、東京は空襲<sup>くうしゅう</sup>により再び大きな被害を受けました。

戦後の復興のなかで、東京にはさらに人口が流入しました。高度経済成長期には、政治だけではなく経済・文化などのさまざまな機能が東京に集中していきました。⑫1980年代後半に日本の景気が過熱<sup>かうねつ</sup>すると、東京では再開発が進められました。しかし、その反動による深刻な不景気によって大きな混乱が広がりました。こうしたことがありながらも、東京は現在も国際都市としてますます発展を続けています。

問1 下線部①について。次の資料は、改新の詔の一部です。この方針は、実際に行われるまでには時間がかかりました。X・Yは、資料の内容にもとづいて行われたことを説明したものです。正誤の組み合わせとして、正しいものをア～エから選び、記号で答えなさい。

一 都や地方の区画(国・郡)を定め、都から地方に役人を派遣<sup>はんぱん</sup>して治めさせる。

X-中国の都である長安をモデルに、日本で初めての本格的な都である藤原京が完成した。

Y-大宝律令が定められると、地方を治めるために都から国司が派遣された。

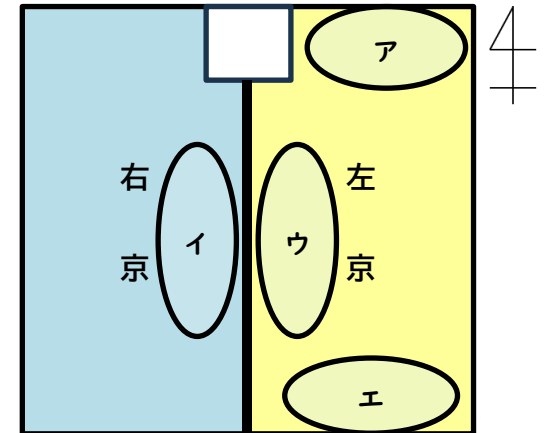
ア. X:正 Y:正                      イ. X:正 Y:誤

ウ. X:誤 Y:正                      エ. X:誤 Y:誤

問2 文章中の( 1 )にあてはまる人物名を答えなさい。

問3 下線部②について。右は平安京の概略図です。

右京はさまざまな理由でしだいにおとろえていき、藤原氏をはじめとする貴族の屋敷は左京に多くつくられました。なかでも権力が強かった藤原道長の屋敷があったと考えられている場所を、図中のア～エから選び、記号で答えなさい。

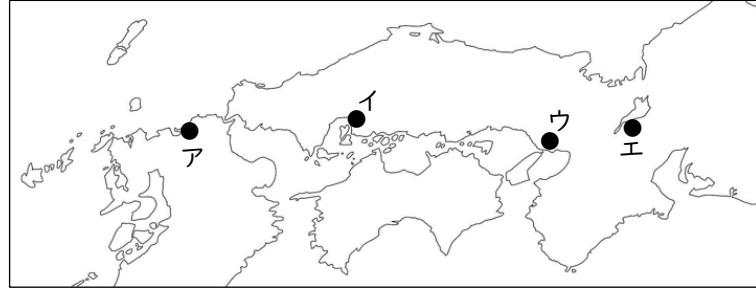


問4 下線部③について。平安京内でおきた戦いとして、正しいものを次から選び、記号で答えなさい。

- ア. 藤原純友の乱      イ. 壬申の乱      ウ. 平将門の乱      エ. 保元の乱

社会-4 A

問5 下線部④について。その理由の一つに、平氏が大輪田泊を拠点に日宋貿易をさかんに行っていたことがあげられます。福原の位置を次の地図中から選び、記号で答えなさい。



問6 下線部⑤について。承久の乱後に、幕府は京都に六波羅探題を設置しました。なぜ京都に置いたのですか。

問7 下線部⑥について。足利義満は豪華な屋敷を京都の室町に建て、そこで政治を行いました。この屋敷を何とといいますか。

問8 文章中の( 2 )にあてはまる人物名を答えなさい。

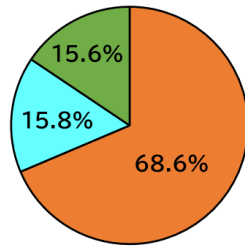
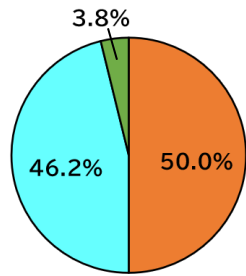
問9 下線部⑦について。豊臣秀吉が就任した役職を次から選び、記号で答えなさい。

- ア. 征夷大將軍 イ. 摂政 ウ. 管領 エ. 関白

問10 下線部⑧について。グラフ1は江戸の身分別人口構成の割合、グラフ2は江戸の身分別居住地面積の割合を示したグラフです。二つのグラフ中のAにあてはまる身分を答えなさい。

グラフ1 江戸の身分別人口構成

グラフ2 江戸の身分別居住地面積



- A (orange), B (cyan), C (green)

内藤昌『江戸と江戸城』より

問11 下線部⑨について。この頃、江戸を描いた絵も多く作られるようになりました。右は江戸の日本橋を描いた絵です。この絵の作者を答えなさい。



知足美術館 HPより

問12 文章中の【 ※ 】にあてはまる年数を次から選び、記号で答えなさい。

- ア. 約270年 イ. 約530年 ウ. 約1070年 エ. 約1280年

問13 下線部⑩について。この時期、東京は政治や文化の中心として、全国に大きな影響を与えるようになりました。その説明として誤っているものを次から選び、記号で答えなさい。

- ア. 日本で初めて新橋-横浜間に鉄道が開通し、全国に鉄道網が拡大していった。
イ. 諸藩に領地と領民を天皇に返上させ、藩主にかえて中央政府から地方へ役人を派遣した。
ウ. 新聞や雑誌などのマスメディアが発達し、ラジオ放送も開始された。
エ. 帝国議会が設けられ、全国各地から選出された議員によって国の予算や法律が審議された。

問14 下線部⑪について。1936年、東京で陸軍の青年将校たちが国家改造を目的としてクーデターをおこしました。このクーデターを何とといいますか。

問15 下線部⑫について。この時期、企業が土地や株式を競って買ったため、地価や株価が実際の価値以上に上がり続けました。このような経済の状況を何とといいますか。

問題は5枚目に続きます

3 次の文章をよく読んで、あとの問に答えなさい。

日本国憲法は、第98条において「国の（ 1 ）」と明記しています。では、（1）である憲法が重視していることは、どのようなことでしょうか。

日本国憲法は、特に先の大戦に対する反省の上に制定されました。①1937年の日中戦争開戦から1945年の太平洋戦争終結までの戦死者は、日本人だけで約310万人といわれています。犠牲者が多くなった原因の一つは、国家によって報道が規制され、真実が伝えられなかったことであるという指摘があります。例えば、太平洋戦争末期の原爆投下による被害の大きさも、当初は正確に伝えられませんでした。このように、戦時には「個人の尊厳」よりも国家の利益が優先される傾向があります。

悲劇を繰り返さないため、日本国憲法には三つの原則の下に、第11章第103条までの条文が規定されています。なかでも第3章「国民の権利及び義務」は第10条から第40条まで割かれており、憲法が重視していることが何か分かります。

憲法第10条から第12条は「個人の尊厳」に関わる条文で、第11条は三原則の一つである②「基本的人権の尊重」にふれています。「基本的人権」は、1945年6月26日に採択された国際連合憲章の前文にも明記されています。しかし、日本に多大な被害をもたらした原子爆弾は、国際連合憲章が採択された後に投下されました。

③憲法第13条から第30条は具体的な人権をあげています。第21条が保障する「表現の自由」は、国家機関による報道統制や検閲を反省して規定されたと考えられます。しかし、第21条の精神は憲法公布後もたびたびおびやかされてきました。例えば、④1954年にアメリカ合衆国が行ったビキニ環礁での水素爆弾実験により、日本のマグロ漁船第五福竜丸が被ばくした事件がありました。人類初の水素爆弾による犠牲者が出たにもかかわらず、この被害の実態もまた正確に伝えられませんでした。

憲法第31条から第40条は刑事訴訟の手續きに関する条文です。本来、個別の法律として保障されるような具体的な内容が、憲法の条文として規定されている点は、日本国憲法の特徴です。刑事訴訟の手續きが「個人の尊厳」の侵害に結びつきやすく、おそらく戦前は多くの（ 2 ）を出してしまったという反省があると考えられます。

さて近年では、国家機関や報道機関だけではなく、⑤個人によってSNS（ソーシャルネットワーキングサービス）で発信される情報が問題になることが増えています。多くの犠牲の上に制定された憲法が守ろうとする国民一人一人の「個人の尊厳」を、国民自らが傷つけている現状は変えていかなくてはなりません。私たちに保障されている権利は、私たちが守ろうという意識がなければ、いつでも侵害される危険があるのです。

問1 文章中の（ 1 ）にあてはまる語句を答えなさい。

問2 下線部①について。なかでも、日本が戦争末期に実行した、人間を兵器の一部とした作戦は、

戦後復興を担うべき若い命を数多く犠牲にしました。この作戦を何といいますか。

問3 下線部②について。日本国憲法が保障する「基本的人権」についての説明として、誤っているものを次から選び、記号で答えなさい。

- ア. 侵すことのできない永久の権利
- イ. 「公共の福祉」に反しない範囲で最大限に保障される権利
- ウ. 国民の不断的努力によって維持されるべき権利
- エ. 法律の範囲内において保障される権利

問4 下線部③について。昨年の7月、最高裁判所は戦後13件目となる違憲判決を行いました。現在までの違憲判決の多くは、第13条と第14条を違憲の根拠としています。最高裁判所は、法令やその他の処分が合憲か違憲かを最終的に判断する役割を担っています。このため最高裁判所は何と呼ばれますか。

問5 下線部④について。この事件をきっかけに、日本では原水爆禁止運動が広がりました。そのなかで、1956年に被爆者の全国組織として長崎で結成されたのが、日本原水爆被害者団体協議会（被団協）です。核の脅威が現実味を帯びている現在において、昨年12月、国際的に意義のある賞を被団協は受賞しました。これは日本にとって50年ぶりの受賞です。何という賞ですか。

問6 文章中の（ 2 ）には、犯罪を行っていないにもかかわらず、罪に問われたり、罰を受けたりすることを指す語句が入ります。

- (1) （ 2 ）にあてはまる語句を答えなさい。
- (2) このようなことは、重大な人権侵害です。これを防ぐために改正された刑事訴訟法により、重大な刑事事件の捜査の過程において、2019年6月から新たに義務付けられたことは何ですか。

問7 下線部⑤について。例えば、どのような社会問題がありますか。具体的な例を一つあげなさい。